

בַּחֲנוּת הַתְּחֵפוּשׁוֹת



1. אילו קיבלת 150 ₪ לקניות בחנות תחפושות מה היית קונה? ערוך רשימה של

דברים אותם היית רוצה לקנות בחנות התחפושות:

_____	_____	_____
_____	_____	_____

2. עכשיו התייעץ עם חברים והוסף ליד כל פריט ברשימה את מחירו.

3. חשב את מחיר כל הקנייה:

4. האם הכסף שזכית בו מספיק לקנות את כל המוצרים?

אם ענית כן- חשב כמה עדיף נשאר לך?


אם ענית לא? חשב כמה כסף חסר לך?



א ז נ י ה מ ן


לכל צלחת של משלוח מנות רצית להוסיף אוזני המן ממולאים בשוקולד. יש לך 10 אוזני המן ושלוש צלחות. איך תוכל לחלק את אוזני ההמן בין הצלחות? האם יישארו גם לך אוזני המן לאחר החלוקה?

אפשרות 1: אפשר לשים בכל צלחת ____ אוזני המן ואז יישארו לי _____ התרגיל המתאים הוא _____ הראה את החלוקה גם בציור



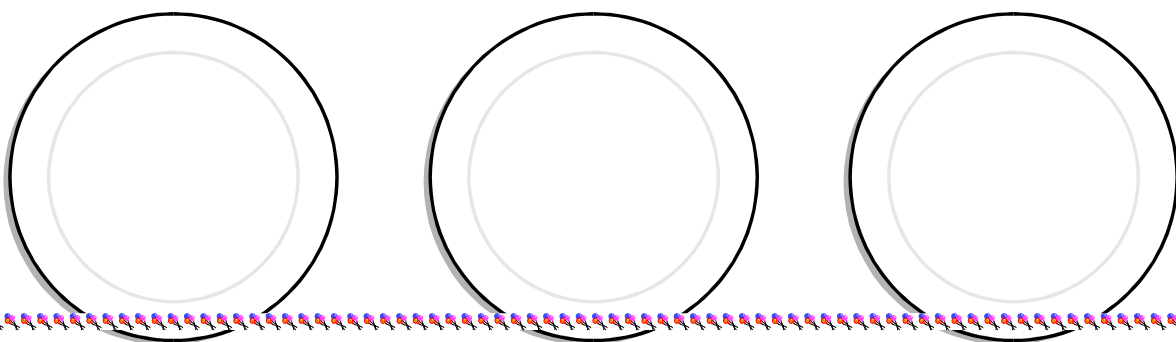
1

אפשרות 2: אפשר לשים בכל צלחת ____ אוזני המן ואז יישארו לי _____ התרגיל המתאים הוא _____ הראה את החלוקה גם בציור



2

אפשרות 3: אפשר לשים בכל צלחת ____ אוזני המן ואז יישארו לי _____ התרגיל המתאים הוא _____ הראה את החלוקה גם בציור



3